

คอมพิวเตอร์ออกแบบผลิตภัณฑ์ ง22102 โดย คุณครูเกศวิมล

ใบงานที่ 9

ชื่อ - นามสกุล.....เลขที่.....ห้อง.....











เรื่อง ควบคุมมุมมองภาพโดย SketchUp

คำชี้แจง

ให้นักเรียนจับคู่ข้อความที่มีความสัมพันธ์กัน โดยอ่านคำถามด้านซ้ายมือแล้วเลือกคำตอบด้านขวามือ มาใส่หน้าข้อด้านซ้ายมือของแต่ละข้อให้ถูกต้อง



- 1. มุมมองสามมิติ
- 2. มุมมองด้านบน
- 3. มุมมองด้านหน้า
- 4. ขยายวัตถุให้พอดีกับหน้าจอ
- 5. ปรับหมุนมุมมอง
- 6. เลื่อนมุมมอง
- 7. มุมมองก่อนหน้า
- 8. ย่อ/ขยายมุมมอง
- 9. มุมมองด้านหลัง
- 10. มุมมองถัดไป

- A**  Front
- B**  Back
- C**  Orbit
- D**  PAN
- E**  Zoom Extents
- F**  Previous
- G**  Next
- H**  ISO
- I**  Zoom
- J**  Top

